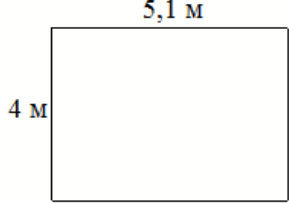
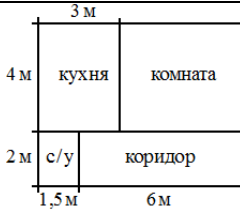

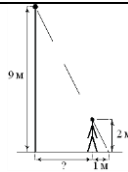
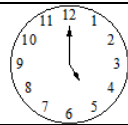


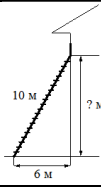



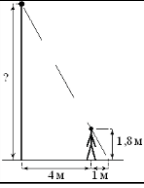

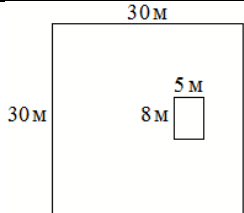
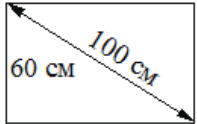
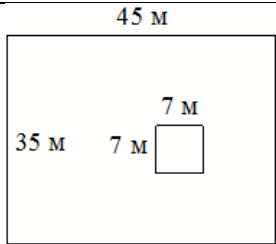
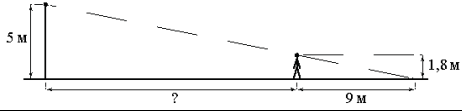
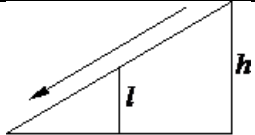
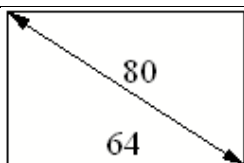
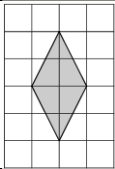


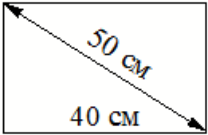
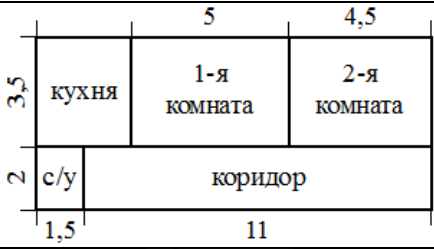
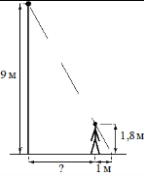
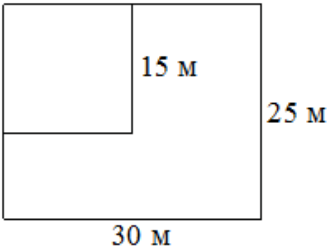
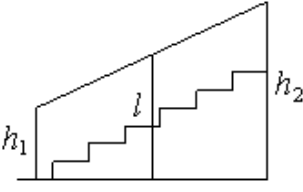
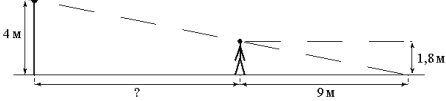

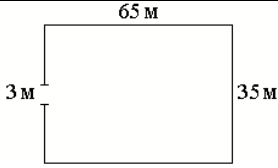

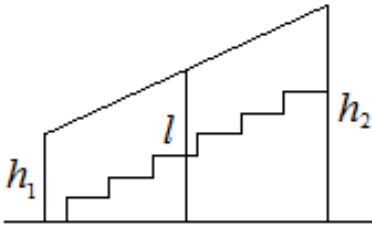
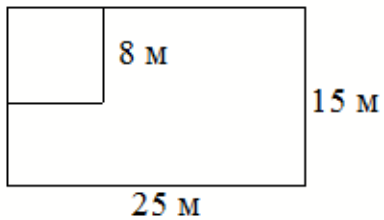
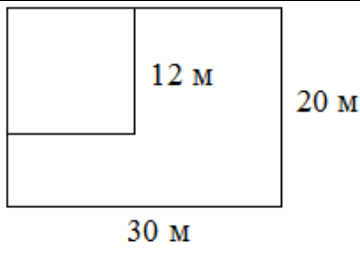
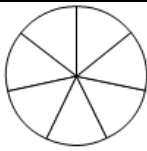



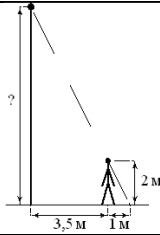
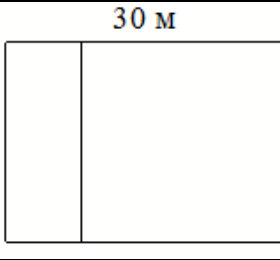
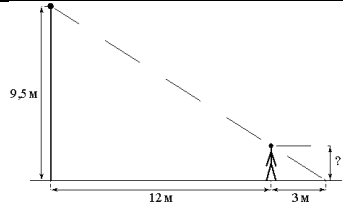
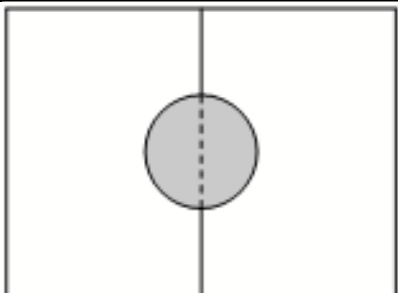
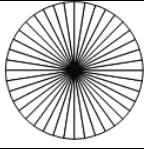
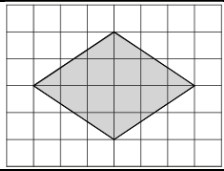
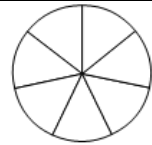
Тренировочные упражнения задания_10

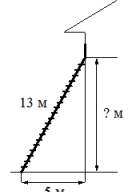
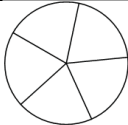
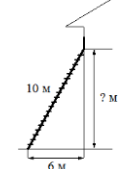
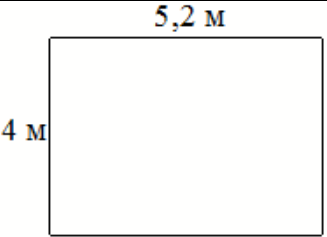
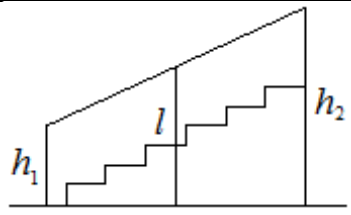
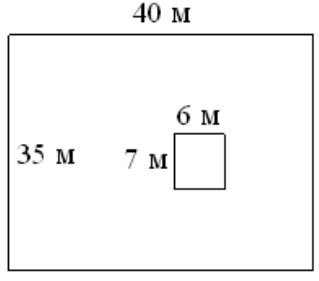


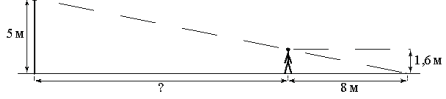
1.	На плане указано, что прямоугольная комната имеет площадь 20,1 кв. м. Точные измерения показали, что ширина комнаты равна 4 м, а длина 5,1 м. На сколько квадратных метров площадь комнаты отличается от площади, указанной на плане?	
2.	Квартира состоит из комнаты, кухни, коридора и санузла (см. чертёж). Кухня имеет размеры 3 м × 4 м, санузел — 1,5 м × 2 м, длина коридора 6 м. Найдите площадь комнаты (в квадратных метрах).	
3.	Человек, рост которого равен 1,6 м, стоит на расстоянии 17 м от уличного фонаря. При этом длина тени человека равна 8 м. Определите высоту фонаря (в метрах).	
4.	На каком расстоянии (в метрах) от фонаря стоит человек ростом 2 м, если длина его тени равна 1 м, высота фонаря 9 м?	
5.	Какой наименьший угол (в градусах) образуют минутная и часовая стрелки часов в 17:00?	
6.	Участок земли под строительство санатория имеет форму прямоугольника, стороны которого равны 1000 м и 500 м. Одна из больших сторон участка идёт вдоль моря, а три остальные стороны нужно оградить забором. Найдите длину этого забора. Ответ дайте в метрах.	
7.	Участок земли имеет прямоугольную форму. Стороны прямоугольника равны 25 м и 65 м. Найдите длину забора (в метрах), которым нужно огородить участок, предусмотрев проезд шириной 4 м.	
8.	Пожарную лестницу длиной 10 м приставили к окну дома. Нижний конец лестницы отстоит от стены на 6 м. На какой высоте находится верхний конец лестницы? Ответ дайте в метрах.	
9.	Какой наименьший угол (в градусах) образуют минутная и часовая стрелки часов в 11:00?	

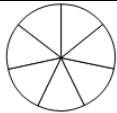

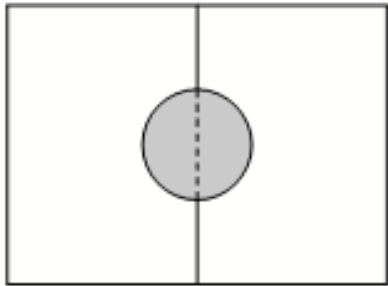
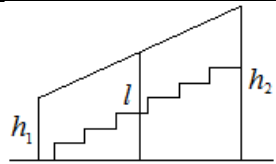
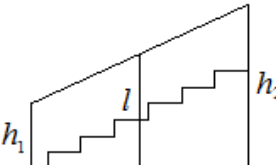

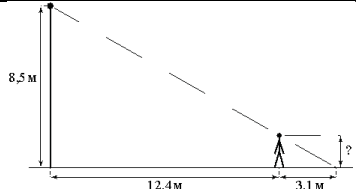
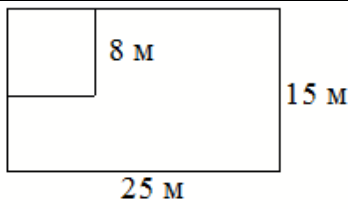
10.	На плане указано, что прямоугольная комната имеет площадь 15,7 кв. м. Точные измерения показали, что ширина комнаты равна 3,2 м, а длина 5 м. На сколько квадратных метров площадь комнаты отличается от значения, указанного на плане?	
11.	План местности разбит на клетки. Каждая клетка обозначает квадрат 1 м × 1 м. Найдите площадь участка, выделенного на плане. Ответ дайте в квадратных метрах.	
12.	Человек, рост которого равен 1,8 м, стоит на расстоянии 4 м от уличного фонаря. При этом длина тени человека равна 1 м. Определите высоту фонаря (в метрах).	
13.	Человек, рост которого равен 1,6 м, стоит на расстоянии 17 м от уличного фонаря. При этом длина тени человека равна 8 м. Определите высоту фонаря (в метрах).	
14.	Дачный участок имеет форму квадрата, сторона которого равна 30 м. Дом, расположенный на участке, имеет на плане форму прямоугольника, стороны которого равны 8 м и 5 м. Найдите площадь оставшейся части участка, не занятой домом. Ответ дайте в квадратных метрах.	
15.	Диагональ прямоугольного экрана телевизора равна 100 см, а высота экрана — 60 см. Найдите ширину экрана. Ответ дайте в сантиметрах.	
16.	Дачный участок имеет форму прямоугольника, стороны которого равны 35 м и 45 м. Дом, расположенный на участке, имеет на плане форму квадрата со стороной 7 м. Найдите площадь оставшейся части участка, не занятой домом. Ответ дайте в квадратных метрах.	
17.	На каком расстоянии (в метрах) от фонаря стоит человек ростом 1,8 м, если длина его тени равна 9 м, высота фонаря 5 м?	
18.	Столб подпирает детскую горку посередине. Найдите высоту l этого столба, если высота h горки равна 3,8 м. Ответ дайте в метрах.	
19.	Диагональ прямоугольного телевизионного экрана равна 80 см, а ширина экрана — 64 см. Найдите высоту экрана. Ответ дайте в сантиметрах.	

20.	План местности разбит на клетки. Каждая клетка обозначает квадрат $1\text{ м} \times 1\text{ м}$. Найдите площадь участка, выделенного на плане. Ответ дайте в квадратных метрах.	
21.	Участок земли под строительство санатория имеет форму прямоугольника, стороны которого равны 800 м и 300 м . Одна из больших сторон участка идёт вдоль моря, а три остальные стороны нужно оградить забором. Найдите длину этого забора. Ответ дайте в метрах.	
22.	Дачный участок имеет форму прямоугольника со сторонами 20 метров и 30 метров . Хозяин планирует обнести его забором и разделить таким же забором на две части, одна из которых имеет форму квадрата. Найдите суммарную длину забора в метрах.	
23.	Диагональ прямоугольного экрана телевизора равна 50 см , а ширина экрана — 40 см . Найдите высоту экрана. Ответ дайте в сантиметрах.	
24.	Квартира состоит из двух комнат, кухни, коридора и санузла (см. чертёж). Первая комната имеет размеры $3,5\text{ м} \times 5\text{ м}$, вторая — $3,5\text{ м} \times 4,5\text{ м}$, санузел имеет размеры $2\text{ м} \times 1,5\text{ м}$, длина коридора 11 м . Найдите площадь кухни (в квадратных метрах).	
25.	На каком расстоянии (в метрах) от фонаря стоит человек ростом $1,8\text{ м}$, если длина его тени равна 1 м , высота фонаря 9 м ?	
26.	Дачный участок имеет форму прямоугольника со сторонами 25 метров и 30 метров . Хозяин отгородил на участке квадратный вольер со стороной 15 метров (см. рис.). Найдите площадь оставшейся части участка. Ответ дайте в квадратных метрах.	
27.	Перила лестницы дачного дома для надёжности укреплены посередине вертикальным столбом. Найдите высоту l этого столба, если наименьшая высота h_1 перил равна $0,7\text{ м}$, а наибольшая h_2 равна $1,5\text{ м}$. Ответ дайте в метрах.	
28.	На каком расстоянии (в метрах) от фонаря стоит человек ростом $1,8\text{ м}$, если длина его тени равна 9 м , высота фонаря 4 м ?	

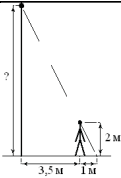
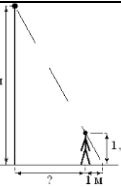
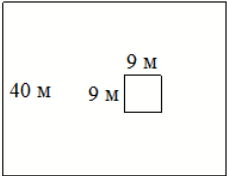
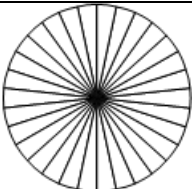
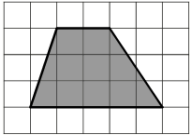
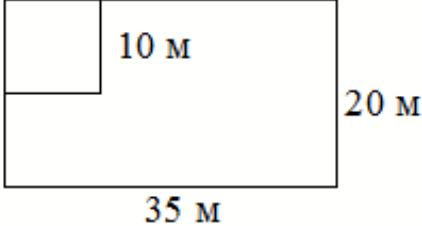

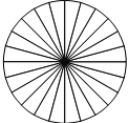
29.	План местности разбит на клетки. Каждая клетка обозначает квадрат $1\text{ м} \times 1\text{ м}$. Найдите площадь участка, выделенного на плане. Ответ дайте в квадратных метрах.	
30.	Участок земли имеет прямоугольную форму. Стороны прямоугольника равны 35 м и 65 м . Найдите длину забора (в метрах), которым нужно огородить участок, предусмотрев проезд шириной 3 м .	
31.	План местности разбит на клетки. Каждая клетка обозначает квадрат $1\text{ м} \times 1\text{ м}$. Найдите площадь участка, выделенного на плане. Ответ дайте в квадратных метрах.	
32.	Перила лестницы дачного дома для надёжности укреплены посередине вертикальным столбом. Найдите высоту l этого столба, если наименьшая высота h_1 перил равна $1,9\text{ м}$, а наибольшая высота h_2 равна $2,9\text{ м}$. Ответ дайте в метрах.	
33.	Дачный участок имеет форму прямоугольника со сторонами 25 метров и 15 метров . Хозяин отгородил на участке квадратный вольер со стороной 8 метров (см. рис.). Найдите площадь оставшейся части участка. Ответ дайте в квадратных метрах.	
34.	Дачный участок имеет форму прямоугольника со сторонами 30 метров и 20 метров . Хозяин планирует обнести его изгородью и отгородить такой же изгородью квадратный участок со стороной 12 м (см. рис.). Найдите суммарную длину изгороди в метрах.	
35.	На рисунке показано, как выглядит колесо с 7 спицами . Сколько будет спиц в колесе, если угол между соседними спицами в нём будет равен 30° ?	
36.	Квартира состоит из комнаты, кухни, коридора и санузла (см. чертёж). Кухня имеет размеры $3\text{ м} \times 3,5\text{ м}$, санузел — $2\text{ м} \times 2\text{ м}$, длина комнаты $4,5\text{ м}$. Найдите площадь коридора (в квадратных метрах).	

37.	Человек, рост которого равен 2 м, стоит на расстоянии 3,5 м от уличного фонаря. При этом длина тени человека равна 1 м. Определите высоту фонаря (в метрах).	
38.	Дачный участок имеет форму прямоугольника со сторонами 25 метров и 30 метров. Хозяин планирует обнести его забором и разделить таким же забором на две части, одна из которых имеет форму квадрата. Найдите суммарную длину забора в метрах.	
39.	Участок земли для строительства санатория имеет форму прямоугольника, стороны которого равны 1000 м и 600 м. Одна из больших сторон участка идёт вдоль моря, а три остальные стороны нужно огородить забором. Найдите длину этого забора. Ответ дайте в метрах	
40.	Человек стоит на расстоянии 12 м от столба, на котором висит фонарь, расположенный на высоте 9,5 м. Длина тени человека равна 3 м. Какого роста человек (в метрах)?	
41.	Человек стоит на расстоянии 4,2 м от столба, на котором висит фонарь, расположенный на высоте 5 м. Тень человека равна 2,8 м. Какого роста человек (в метрах)?	
42.	Два садовода, имеющие прямоугольные участки размерами 24 м на 30 м с общей границей, договорились и сделали общий круглый пруд площадью 140 квадратных метров (см. чертёж), причём граница участков проходит точно через центр пруда. Какова площадь (в квадратных метрах) оставшейся части участка каждого садовода?	
43.	Колесо имеет 40 спиц. Углы между соседними спицами равны. Найдите величину угла (в градусах), который образуют две соседние спицы.	
44.	План местности разбит на клетки. Каждая клетка обозначает квадрат 1 м × 1 м. Найдите площадь участка, выделенного на плане. Ответ дайте в квадратных метрах.	
45.	На рисунке показано, как выглядит колесо с 7 спицами. Сколько будет спиц в колесе, если угол между соседними спицами в нём будет равен 18°?	

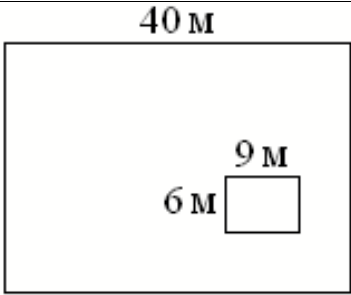
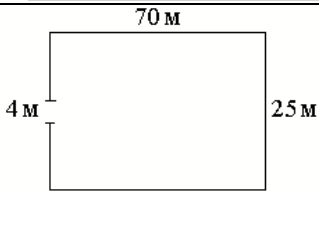
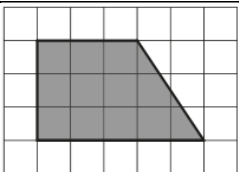
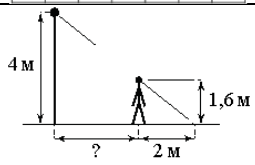
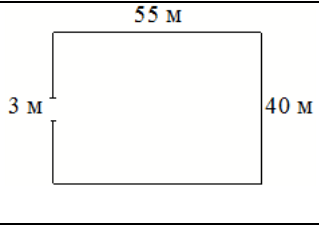
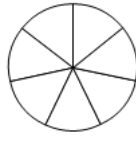
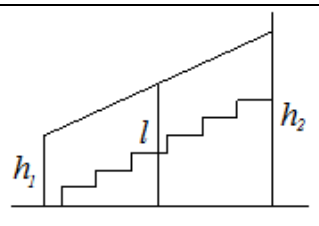
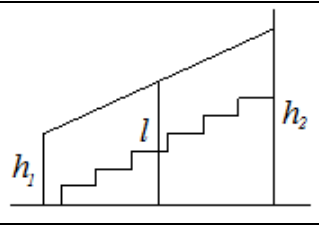
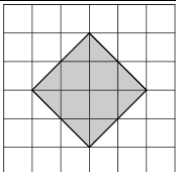
46.	Пожарную лестницу длиной 13 м приставили к окну дома. Нижний конец лестницы отстоит от стены на 5 м. На какой высоте находится верхний конец лестницы? Ответ дайте в метрах.	
47.	Колесо имеет 5 спиц. Углы между соседними спицами равны. Найдите величину угла (в градусах), который образуют две соседние спицы.	
48.	Пожарную лестницу длиной 10 м приставили к окну дома. Нижний конец лестницы отстоит от стены на 6 м. На какой высоте находится верхний конец лестницы? Ответ дайте в метрах.	
49.	На плане указано, что прямоугольная комната имеет площадь 20,7 кв. м. Точные измерения показали, что ширина комнаты равна 4 м, а длина 5,2 м. На сколько квадратных метров площадь комнаты отличается от площади, указанной на плане?	
50.	Перила лестницы дачного дома для надёжности укреплены посередине вертикальным столбом. Найдите высоту l этого столба, если наименьшая высота h_1 перил равна 1,15 м, а наибольшая высота h_2 равна 2,15 м. Ответ дайте в метрах.	
51.	Дачный участок имеет форму прямоугольника, стороны которого равны 35 м и 40 м. Дом, расположенный на участке, на плане также имеет форму прямоугольника, стороны которого равны 7 м и 6 м. Найдите площадь оставшейся части участка, не занятой домом. Ответ дайте в квадратных метрах.	
52.	Участок земли имеет прямоугольную форму. Стороны прямоугольника равны 40 м и 50 м. Найдите длину забора (в метрах), которым нужно огородить участок, предусмотрев проезд шириной 3 м.	
53.	План местности разбит на клетки. Каждая клетка обозначает квадрат 1 м × 1 м. Найдите площадь участка, выделенного на плане. Ответ дайте в квадратных метрах.	
54.	На каком расстоянии (в метрах) от фонаря стоит человек ростом 1,6 м, если длина его тени равна 8 м, высота фонаря 5 м?	

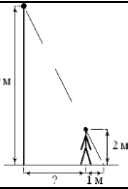
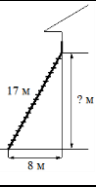
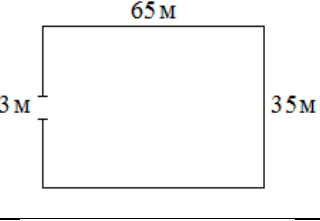
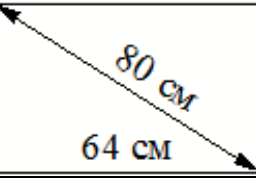
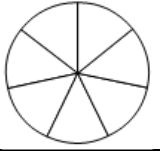

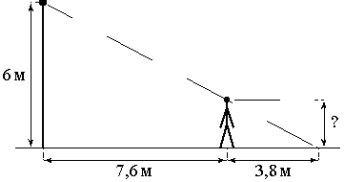
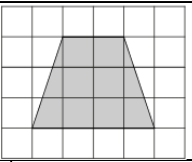
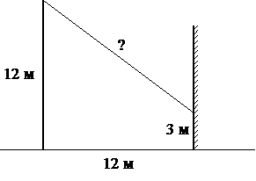
55.	На рисунке показано, как выглядит колесо с 7 спицами. Сколько будет спиц в колесе, если угол между соседними спицами в нём будет равен 20° ?	
56.	Участок земли имеет прямоугольную форму. Стороны прямоугольника равны 30 м и 50 м. Найдите длину забора (в метрах), которым нужно огородить участок, предусмотрев проезд шириной 4 м.	
57.	Два садовода, имеющие прямоугольные участки размерами 20 м на 30 м с общей границей, договорились и сделали общий круглый пруд площадью 280 квадратных метров (см. чертёж), причём граница участков проходит точно через центр пруда. Какова площадь (в квадратных метрах) оставшейся части участка каждого садовода?	
58.	Перила лестницы дачного дома для надёжности укреплены посередине вертикальным столбом. Найдите высоту l этого столба, если наименьшая высота h_1 перил равна 1,25 м, а наибольшая высота h_2 равна 2,25 м. Ответ дайте в метрах.	
59.	Перила лестницы дачного дома для надёжности укреплены посередине вертикальным столбом. Найдите высоту l этого столба, если наименьшая высота h_1 перил равна 1,05 м, а наибольшая высота h_2 равна 2,05 м. Ответ дайте в метрах.	
60.	Участок земли под строительство санатория имеет форму прямоугольника, стороны которого равны 800 м и 300 м. Одна из больших сторон участка идёт вдоль моря, а три остальные стороны нужно огородить забором. Найдите длину этого забора. Ответ дайте в метрах.	
61.	Человек стоит на расстоянии 12,4 м от столба, на котором висит фонарь, расположенный на высоте 8,5 м. Длина тени человека равна 3,1 м. Какого роста человек (в метрах)?	
62.	Дачный участок имеет форму прямоугольника со сторонами 25 метров и 15 метров. Хозяин планирует обнести его изгородью и отгородить такой же изгородью квадратный участок со стороной 8 метров (см. рис.). Найдите суммарную длину изгороди в метрах.	

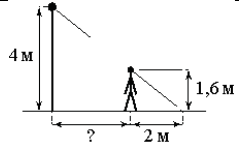

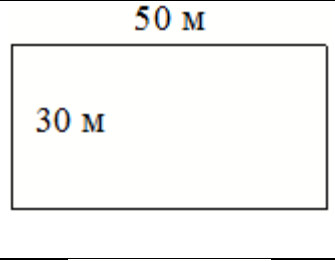
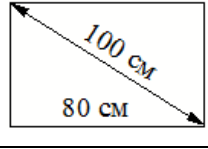
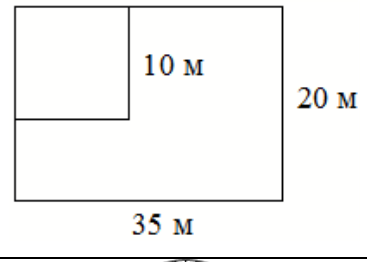
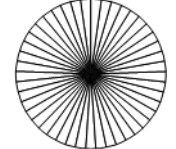
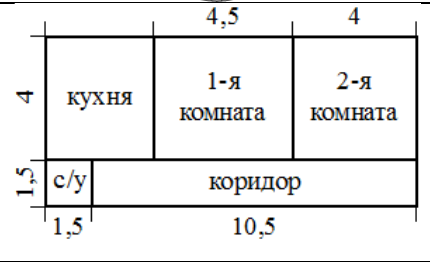
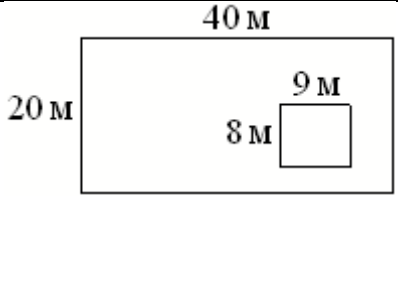
63.	Участок земли имеет прямоугольную форму. Стороны прямоугольника равны 30 м и 75 м. Найдите длину забора (в метрах), которым нужно огородить участок, предусмотрев проезд шириной 4 м.	
64.	Столб подпирает детскую горку посередине. Найдите высоту l этого столба, если высота h горки равна 4,2 м. Ответ дайте в метрах.	
65.	Участок земли имеет прямоугольную форму. Стороны прямоугольника равны 30 м и 60 м. Найдите длину забора (в метрах), которым нужно огородить участок, предусмотрев проезд шириной 3 м.	
66.	Дачный участок имеет форму прямоугольника со сторонами 22 метра и 30 метров. Хозяин планирует обнести его забором и разделить таким же забором на две части, одна из которых имеет форму квадрата. Найдите суммарную длину забора в метрах.	
67.	Дачный участок имеет форму прямоугольника со сторонами 30 метров и 20 метров. Хозяин планирует обнести его изгородью и отгородить такой же изгородью квадратный участок со стороной 12 метров (см. рис.). Найдите суммарную длину изгороди в метрах.	
68.	Человек стоит на расстоянии 7,6 м от столба, на котором висит фонарь, расположенный на высоте 6 м. Длина тени человека равна 3,8 м. Какого роста человек (в метрах)?	
69.	Колесо имеет 15 спиц. Углы между соседними спицами равны. Найдите величину угла (в градусах), который образуют две соседние спицы.	
70.	На каком расстоянии (в метрах) от фонаря стоит человек ростом 1,8 м, если длина его тени равна 9 м, высота фонаря 5 м?	
71.	Дачный участок имеет форму прямоугольника со сторонами 25 метров и 30 метров. Хозяин планирует обнести его изгородью и отгородить такой же изгородью квадратный участок со стороной 15 метров (см. рис.). Найдите суммарную длину изгороди в метрах.	

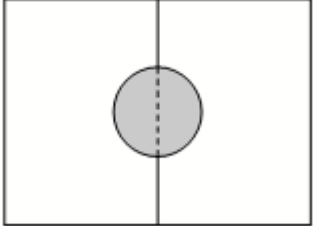
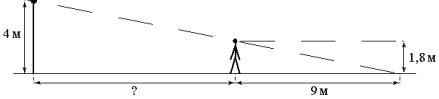

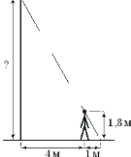

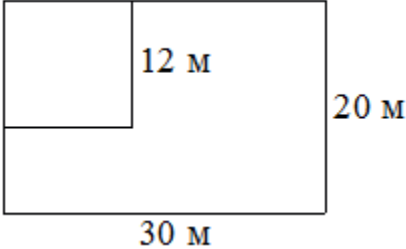

72.	Человек, рост которого равен 2 м, стоит на расстоянии 3,5 м от уличного фонаря. При этом длина тени человека равна 1 м. Определите высоту фонаря (в метрах).	
73.	На каком расстоянии (в метрах) от фонаря стоит человек ростом 1,8 м, если длина его тени равна 1 м, высота фонаря 9 м?	
74.	Дачный участок имеет форму прямоугольника, стороны которого равны 40 м и 50 м. Дом, расположенный на участке, имеет на плане форму квадрата со стороной 9 м. Найдите площадь оставшейся части участка, не занятой домом. Ответ дайте в квадратных метрах.	
75.	Человек, рост которого равен 1,8 м, стоит на расстоянии 16 м от уличного фонаря. При этом длина тени человека равна 9 м. Определите высоту фонаря (в метрах).	
76.	Колесо имеет 30 спиц. Углы между соседними спицами равны. Найдите величину угла (в градусах), который образуют две соседние спицы.	
77.	Человек стоит на расстоянии 4,2 м от столба, на котором висит фонарь, расположенный на высоте 6 м. Тень человека равна 1,8 м. Какого роста человек (в метрах)?	
78.	План местности разбит на клетки. Каждая клетка обозначает квадрат 1 м × 1 м. Найдите площадь участка, выделенного на плане. Ответ дайте в квадратных метрах.	
79.	Дачный участок имеет форму прямоугольника со сторонами 35 метров и 20 метров. Хозяин планирует обнести его изгородью и отгородить такой же изгородью квадратный участок со стороной 10 метров (см. рис.). Найдите суммарную длину изгороди в метрах.	
80.	Участок земли под строительство санатория имеет форму прямоугольника, стороны которого равны 900 м и 400 м. Одна из больших сторон участка идёт вдоль моря, а три остальные стороны нужно огородить забором. Найдите длину этого забора. Ответ дайте в метрах.	
81.	Колесо имеет 24 спицы. Углы между соседними спицами равны. Найдите величину угла (в градусах), который образуют две соседние спицы.	




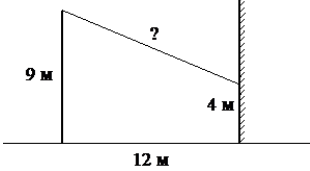
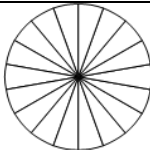

82.	Человек стоит на расстоянии 12 м от столба, на котором висит фонарь, расположенный на высоте 9,5 м. Длина тени человека равна 3 м. Какого роста человек (в метрах)?	
83.	Дачный участок имеет форму прямоугольника, стороны которого равны 30 м и 20 м. Дом, расположенный на участке, имеет на плане форму квадрата со стороной 6 м. Найдите площадь оставшейся части участка, не занятой домом. Ответ дайте в квадратных метрах.	
84.	Столб подпирает детскую горку посередине. Найдите высоту l этого столба, если высота h горки равна 2,8 м. Ответ дайте в метрах.	
85.	Столб подпирает детскую горку посередине. Найдите высоту l этого столба, если высота h горки равна 2,2 м. Ответ дайте в метрах.	
86.	Дачный участок имеет форму прямоугольника со сторонами 35 метров и 20 метров. Хозяин отгородил на участке квадратный вольер со стороной 10 метров (см. рис.). Найдите площадь оставшейся части участка. Ответ дайте в квадратных метрах.	
87.	Квартира состоит из комнаты, кухни, коридора и санузла (см. чертёж). Комната имеет размеры 4 м × 4 м, санузел — 1,5 м × 2 м, длина коридора 5,5 м. Найдите площадь кухни (в квадратных метрах).	
88.	Два садовода, имеющие прямоугольные участки размерами 35 м на 40 м с общей границей, договорились и сделали общий круглый пруд площадью 280 квадратных метров (см. чертёж), причём граница участков проходит точно через центр пруда. Какова площадь (в квадратных метрах) оставшейся части участка каждого садовода?	
89.	Человек стоит на расстоянии 12,3 м от столба, на котором висит фонарь, расположенный на высоте 10 м. Тень человека равна 2,7 м. Какого роста человек (в метрах)?	

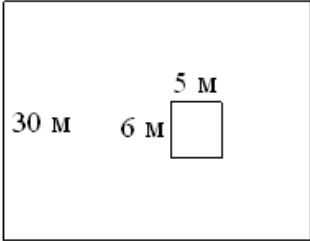

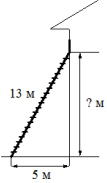
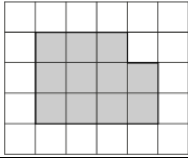

90.	Дачный участок имеет форму прямоугольника, стороны которого равны 40 м и 30 м. Дом, расположенный на участке, также имеет форму прямоугольника, стороны которого равны 9 м и 6 м. Найдите площадь оставшейся части участка. Ответ дайте в квадратных метрах.	
91.	Участок земли имеет прямоугольную форму. Стороны прямоугольника равны 25 м и 70 м. Найдите длину забора (в метрах), которым нужно огородить участок, предусмотрев проезд шириной 4 м.	
92.	План местности разбит на клетки. Каждая клетка обозначает квадрат 1 м × 1 м. Найдите площадь участка, выделенного на плане. Ответ дайте в квадратных метрах.	
93.	На каком расстоянии (в метрах) от фонаря стоит человек ростом 1,6 м, если длина его тени равна 2 м, высота фонаря 4 м?	
94.	Участок земли имеет прямоугольную форму. Стороны прямоугольника равны 40 м и 55 м. Найдите длину забора (в метрах), которым нужно огородить участок, предусмотрев проезд шириной 3 м.	
95.	На рисунке показано, как выглядит колесо с 7 спицами. Сколько будет спиц в колесе, если угол между соседними спицами в нём будет равен 36° ?	
96.	Перила лестницы дачного дома для надёжности укреплены посередине вертикальным столбом. Найдите высоту l этого столба, если наименьшая высота h_1 перил равна 0,8 м, а наибольшая h_2 равна 1,6 м. Ответ дайте в метрах.	
97.	Перила лестницы дачного дома для надёжности укреплены посередине вертикальным столбом. Найдите высоту l этого столба, если наименьшая высота h_1 перил равна 1,1 м, а наибольшая h_2 равна 1,9 м. Ответ дайте в метрах.	
98.	План местности разбит на клетки. Каждая клетка обозначает квадрат 1 м × 1 м. Найдите площадь участка, выделенного на плане. Ответ дайте в квадратных метрах.	

99.	На каком расстоянии (в метрах) от фонаря стоит человек ростом 2 м, если длина его тени равна 1 м, высота фонаря 9 м?	
100.	Пожарную лестницу длиной 17 м приставили к окну дома. Нижний конец лестницы отстоит от стены на 8 м. На какой высоте находится верхний конец лестницы? Ответ дайте в метрах.	
101.	Участок земли имеет прямоугольную форму. Стороны прямоугольника равны 35 м и 65 м. Найдите длину забора (в метрах), которым нужно огородить участок, предусмотрев проезд шириной 3 м.	
102.	Диагональ прямоугольного телевизионного экрана равна 80 см, а ширина экрана — 64 см. Найдите высоту экрана. Ответ дайте в сантиметрах.	
103.	На рисунке показано, как выглядит колесо с 7 спицами. Сколько будет спиц в колесе, если угол между соседними спицами в нём будет равен 15° ?	
104.	Квартира состоит из комнаты, кухни, коридора и санузла (см. чертёж). Комната имеет размеры 5 м \times 3,5 м, коридор — 1,5 м \times 6,5 м, длина кухни 3,5 м. Найдите площадь санузла (в квадратных метрах).	
105.	На плане указано, что прямоугольная комната имеет площадь 21 кв. м. Точные измерения показали, что ширина комнаты равна 4 м, а длина 5,3 м. На сколько квадратных метров площадь комнаты отличается от площади, указанной на плане?	
106.	Человек стоит на расстоянии 7,6 м от столба, на котором висит фонарь, расположенный на высоте 6 м. Длина тени человека равна 3,8 м. Какого роста человек (в метрах)?	
107.	План местности разбит на клетки. Каждая клетка обозначает квадрат 1 м \times 1 м. Найдите площадь участка, выделенного на плане. Ответ дайте в квадратных метрах.	
108.	От столба высотой 12 м к дому натянут провод, который крепится на высоте 3 м от земли (см. рисунок). Расстояние от дома до столба 12 м. Найдите длину провода. Ответ дайте в метрах.	

109.	На каком расстоянии (в метрах) от фонаря стоит человек ростом 1,6 м, если длина его тени равна 2 м, высота фонаря 4 м?	
110.	Квартира состоит из двух комнат, кухни, коридора и санузла (см. чертёж). Кухня имеет размеры $3,5 \text{ м} \times 3 \text{ м}$, первая комната — $3,5 \text{ м} \times 5 \text{ м}$, санузел имеет размеры $1,5 \text{ м} \times 2 \text{ м}$, длина коридора 9,5 м. Найдите площадь второй комнаты (в квадратных метрах).	
111.	Участок земли для строительства дачи имеет форму прямоугольника, стороны которого равны 50 м и 30 м. Одна из больших сторон участка идёт вдоль реки, а три остальные стороны нужно огородить забором. Найдите длину этого забора. Ответ дайте в метрах.	
112.	Диагональ прямоугольного экрана телевизора равна 100 см, а ширина экрана — 80 см. Найдите высоту экрана. Ответ дайте в сантиметрах.	
113.	Дачный участок имеет форму прямоугольника со сторонами 35 метров и 20 метров. Хозяин планирует обнести его изгородью и отгородить такой же изгородью квадратный участок со стороной 10 м (см. рис.). Найдите суммарную длину изгороди в метрах.	
114.	Колесо имеет 45 спиц. Углы между соседними спицами равны. Найдите величину угла (в градусах), который образуют две соседние спицы.	
115.	Квартира состоит из двух комнат, кухни, коридора и санузла (см. чертёж). Первая комната имеет размеры $4 \text{ м} \times 4,5 \text{ м}$, вторая — $4 \text{ м} \times 4 \text{ м}$, санузел имеет размеры $1,5 \text{ м} \times 1,5 \text{ м}$, длина коридора 10,5 м. Найдите площадь кухни (в квадратных метрах).	
116.	Дачный участок имеет форму прямоугольника, стороны которого равны 40 м и 20 м. Дом, расположенный на участке, также имеет форму прямоугольника, стороны которого равны 9 м и 8 м. Найдите площадь оставшейся части участка. Ответ дайте в квадратных метрах.	

117.	Два садовода, имеющие прямоугольные участки размерами 20 м на 30 м с общей границей, договорились и сделали общий круглый пруд площадью 140 квадратных метров (см. чертёж), причём граница участков проходит точно через центр пруда. Какова площадь (в квадратных метрах) оставшейся части участка каждого садовода?	
118.	На каком расстоянии (в метрах) от фонаря стоит человек ростом 1,8 м, если длина его тени равна 9 м, высота фонаря 4 м?	
119.	Дачный участок имеет форму прямоугольника со сторонами 24 метра и 36 метров. Хозяин планирует обнести его забором и разделить таким же забором на две части, одна из которых имеет форму квадрата. Найдите общую длину забора в метрах.	
120.	Человек, рост которого равен 1,8 м, стоит на расстоянии 4 м от уличного фонаря. При этом длина тени человека равна 1 м. Определите высоту фонаря (в метрах).	
121.	Человек стоит на расстоянии 11,1 м от столба, на котором висит фонарь, расположенный на высоте 9 м. Тень человека равна 2,4 м. Какого роста человек (в метрах)?	
122.	На плане указано, что прямоугольная комната имеет площадь 15,4 кв. м. Точные измерения показали, что ширина комнаты равна 3 м, а длина 5,2 м. На сколько квадратных метров площадь комнаты отличается от площади, указанной на плане?	
123.	Дачный участок имеет форму прямоугольника со сторонами 30 метров и 20 метров. Хозяин отгородил на участке квадратный вольер со стороной 12 метров (см. рис.). Найдите площадь оставшейся части участка. Ответ дайте в квадратных метрах.	
124.	Квартира состоит из комнаты, кухни, коридора и санузла (см. чертёж). Кухня имеет размеры 3 м × 4 м, санузел — 1,5 м × 2 м, длина коридора 6 м. Найдите площадь комнаты (в квадратных метрах).	

125.	Участок земли под строительство санатория имеет форму прямоугольника, стороны которого равны 800 м и 400 м. Одна из больших сторон участка идёт вдоль моря, а три остальные стороны нужно оградить забором. Найдите длину этого забора. Ответ дайте в метрах.	<p style="text-align: center;">800 м</p> 
126.	Человек, рост которого равен 1,6 м, стоит на расстоянии 3 м от уличного фонаря. При этом длина тени человека равна 2 м. Определите высоту фонаря (в метрах).	
127.	На плане указано, что прямоугольная комната имеет площадь 16,3 кв. м. Точные измерения показали, что ширина комнаты равна 3,2 м, а длина 5 м. На сколько квадратных метров площадь комнаты отличается от значения, указанного на плане?	<p style="text-align: center;">5 м</p> 
128.	Человек, рост которого равен 1,8 м, стоит на расстоянии 11 м от уличного фонаря. При этом длина тени человека равна 9 м. Определите высоту фонаря (в метрах).	
129.	На плане указано, что прямоугольная комната имеет площадь 15,2 кв. м. Точные измерения показали, что ширина комнаты равна 3 м, а длина 5,1 м. На сколько квадратных метров площадь комнаты отличается от значения, указанного на плане?	<p style="text-align: center;">5,1 м</p> 
130.	От столба высотой 9 м к дому натянут провод, который крепится на высоте 4 м от земли (см. рисунок). Расстояние от дома до столба 12 м. Найдите длину провода. Ответ дайте в метрах.	
131.	Колесо имеет 18 спиц. Углы между соседними спицами равны. Найдите величину угла (в градусах), который образуют две соседние спицы.	
132.	На плане указано, что прямоугольная комната имеет площадь 21,2 кв. м. Точные измерения показали, что ширина комнаты равна 4 м, а длина 5,4 м. На сколько квадратных метров площадь комнаты отличается от площади, указанной на плане?	<p style="text-align: center;">5,4 м</p> 
133.	Человек стоит на расстоянии 12,4 м от столба, на котором висит фонарь, расположенный на высоте 8 м. Тень человека равна 3,6 м. Какого роста человек (в метрах)?	

134.	Дачный участок имеет форму прямоугольника, стороны которого равны 30 м и 40 м. Дом, расположенный на участке, на плане также имеет форму прямоугольника, стороны которого равны 5 м и 6 м. Найдите площадь оставшейся части участка, не занятой домом. Ответ дайте в квадратных метрах.	
135.	Квартира состоит из двух комнат, кухни, коридора и санузла (см. чертёж). Кухня имеет размеры 3,5 м×3,5 м, вторая комната — 3,5 м×4 м, санузел имеет размеры 1,5 м×1,5 м, длина коридора 11 м. Найдите площадь первой комнаты (в квадратных метрах).	
136.	Пожарную лестницу длиной 13 м приставили к окну дома. Нижний конец лестницы отстоит от стены на 5 м. На какой высоте находится верхний конец лестницы? Ответ дайте в метрах.	
137.	План местности разбит на клетки. Каждая клетка обозначает квадрат 1 м × 1 м. Найдите площадь участка, выделенного на плане. Ответ дайте в квадратных метрах.	
138.	Какой наименьший угол (в градусах) образуют минутная и часовая стрелки часов в 16:00?	
139.	Дачный участок имеет форму прямоугольника со сторонами 25 метров и 40 метров. Хозяин планирует обнести его забором и разделить таким же забором на две части, одна из которых имеет форму квадрата. Найдите суммарную длину забора в метрах.	